



Вариант № 8

Всероссийская проверочная работа математика 4 класс 2017 года. А. А. Мальцев, Д. А. Мальцев. Вариант 1.

1. Найдите значение выражение $87 - 69$.
2. Найди значение выражения $18 + 4 \cdot 3 - 11$.
3. Электричка из Москвы в Звенигород идёт 80 минут. Когда электричка прибудет в Звенигород, если из Москвы она отправилась в 17 часов 50 минут?
4. На рисунке изображена фигура.
 - 1) Найди её площадь, если сторона одной клетки равна 1 см.



- 2) Начертите прямоугольник с такой же площадью, каждая из сторон которого больше 1 см.



5. Пётр Иванович выращивает морковь, лук и свеклу. Каждый овощ он выращивал на отдельном участке в течении четырёх лет. Пётр Иванович заносит в таблицу количество килограммов урожая, которое он получает с каждого участка за год. Используя таблицу, ответь на вопросы.

Годы по порядку	Морковь	Лук	Свекла
Первый год	750 кг	560 кг	690 кг
Второй год	720 кг	680 кг	740 кг
Третий год	630 кг	730 кг	680 кг
Четвёртый год	690 кг	710 кг	620 кг

- 1) Урожайность какого овоща была наибольшей за второй год?
 - 2) Сколько килограммов лука получил Пётр Иванович за все четыре года?
6. Найди значение выражения $15340 : 5 - 155 \cdot 8$
 7. Дина приехала в Челябинск во вторник и планирует пробыть там до воскресенья. Она хочет встретиться с подругой, посетить концерт любимой музыкальной группы, сходить в музей и сходить в театр, причём каждому из этих дел она хочет посвятить отдельный день, концерт её любимой группы проводится только в четверг, музей работает со среды по субботу, спектакли в театре идут в среду и пятницу, подруга свободна в четверг и пятницу.
 - 1) В какой день Дина будет встречаться с подругой?
 - 2) Куда пойдёт Дина на следующий день после встречи с подругой?
 8. У Лёни есть 450 рублей, и ему нужно купить три пакета молока и пачку масла. Лёня решил на все оставшиеся деньги купить шоколадки. Сколько шоколадок он сможет купить?

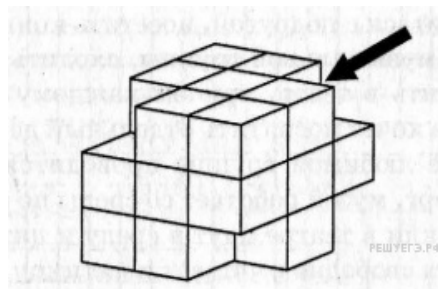


Запиши решение и ответ.

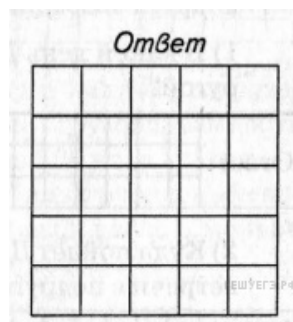
9. Для перевозки 15 тонн груза были использованы два автомобиля «газель», грузоподъёмность одного из которых 1 тонна 800 кг, а другого — 2 тонны 400 кг. Автомобиль грузоподъёмностью 1 тонна 800 кг сделал три рейса. Сколько рейсов сделал второй автомобиль?

Запиши решение и ответ.

10. Из большого куба Катя вырезала 4 маленьких, кубика так, как показано на данном ниже рисунке. Затем она окрасила одну из сторон получившейся фигуры краской и сделала её отпечаток на листе бумаги.



Изобрази отпечаток, который получился у Кати, если она окрашивала ту сторону, на которую указывает стрелка. Один кубик следует изображать одной клеткой.



11. Дедушка с бабушкой, отправившись в лес за грибами, взяли с собой внука Артёма и внучку Настю. Все вместе они собрали 89 грибов. При этом бабушка вместе с Настей собрали не меньше, чем 45 грибов, а больше всех грибов собрал дедушка. Какое наибольшее число грибов мог собрать Артём?