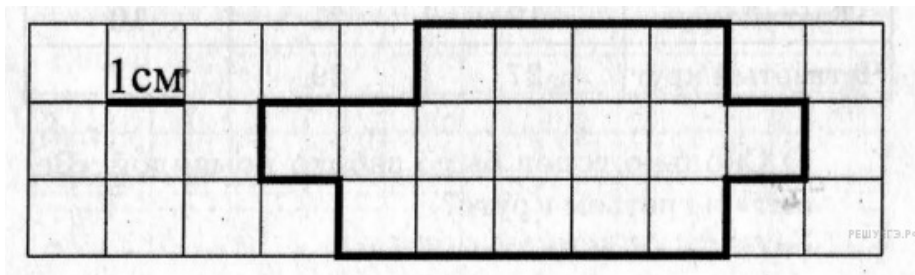



Вариант № 10

Всероссийская проверочная работа математика 4 класс 2017 года. А. А. Мальцев, Д. А. Мальцев. Вариант 3.

1. Найдите значение выражение $67 + 29$.
2. Найди значение выражения $6 + 27 : 3 + 19$.
3. Электричка из Ростова-на-Дону в Краснодар отправилась в 7 часов 40 минут и прибыла в 12 часов 25 минут. Сколько времени занимает дорога из Ростова-на-Дону в Краснодар, если ехать этой электричкой? Ответ вырази в минутах.
4. На рисунке изображена фигура.
 - 1) Найди её площадь, если сторона одной клетки равна 1 см.



- 2) Начертите прямоугольник с такой же площадью, каждая из сторон которого больше 1 см.



5. Чемпионат по футболу проходил в четыре круга. Михаил следил за количеством забитых голов своих любимых команд и записывал результаты в таблицу. Используя данные этой таблицы, ответь на вопросы.

Номер игрового круга	«ЦСКА»	«Зенит»	«Рубин»
Первый круг	15	13	20
Второй круг	22	16	18
Третий круг	13	21	10
Четвёртый круг	27	29	17

- 1) Сколько голов было забито командой «Зенит» в третьем круге?
- 2) Какая команда забила больше всего голов за первых два круга?

6. Найди значение выражения $12636 : 3 - 180 \cdot 4$

7. Начальник отдела продаж Вячеслав обсуждал свою новую идею с директором, программистом и бухгалтером. Каждое из обсуждений длилось ровно 50 минут с перерывами по 10 минут между ними. Известно, что директор приехал в офис к 10:30, а бухгалтер с 10:30 до 13:00 был занят подготовкой квартального отчёта. При этом Вячеслав смог закончить все три обсуждения к 12:00, начав первое из них в 9:10.

- 1) С кем Вячеслав обсуждал свою идею в первую очередь?
- 2) С кем Вячеслав обсуждал свою идею в 10:50?

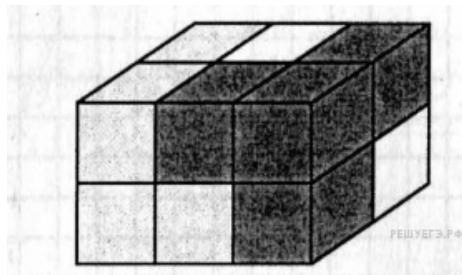
8. У Тани есть 1500 рублей, и ей нужно купить 1,5 кг капусты, 1 кг перца, 1 кг моркови и 500 грамм помидоров. Какое наибольшее число лукошек клубники может купить Тania на оставшиеся деньги?

<p>ЯБЛОКИ</p>  <p>85 руб.</p>	<p>КЛУБНИКА</p>  <p>150 руб.</p>	<p>ПЕРЕЦ</p>  <p>150 руб.</p>
<p>МОРКОВЬ</p>  <p>35 руб.</p>	<p>ПОМИДОРЫ</p>  <p>120 руб.</p>	<p>КАПУСТА</p>  <p>50 руб.</p>

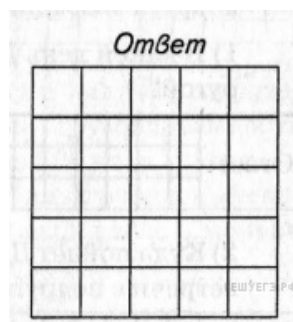
Запиши решение и ответ.

9. Миша и Андрей собрали железную дорогу длиной 3 метра 50 см из коротких и длинных деталей длиной 15 см и 25 см соответственно. При сборке ребята использовали пять длинных деталей. Сколько коротких деталей они использовали? Запиши решение и ответ.

10. Брусочек, изображённый на данном ниже рисунке, собран из трёх деталей. Каждая деталь состоит из четырёх кубиков и окрашена в свой цвет. Нарисуй изображение белой детали.



Изобрази отпечаток, который получился у Жени, если он окрашивал ту сторону, на которую указывает стрелка. Один кубик следует изображать одной клеткой. Одно из полей можно использовать как черновик.



11. На кухне у бабушки в вазочке лежало 25 конфет. В течении дня съели внучки Даша, Марина и внук Витя все эти конфеты. Причём Даша съела конфет в два раза больше, чем Марина, а Витя съел конфет больше, чем Марина, но меньше, чем Даша. Сколько конфет съел Витя?